

**Nina Gecan \* Robert Žagar**

# **MOJA GEOGRAFIJA 8**

**provjere znanja  
za 8. razred osnovne škole**

**Prvo izdanje  
Zagreb, 2022.**



## **Za izdavača**

Darko Simić

## **Autori**

Robert Žagar, prof. geografije i povijesti

Nina Gecan, mag. edukacije geografije i povijesti

## **Lektorica**

Magdalena-Megi Pavlović, mag. educ. philol. croat. et ling.

## **Stručni suradnik i autor karata**

dr. sc. Ivan Šulc

## **Grafička urednica**

Petra Kljaić, prof. likovne kulture

## **Izdavač**

**Alka script d.o.o.**

Zagreb, Nehajska 42

tel. 01/30 135 30

[www.alkascript.hr](http://www.alkascript.hr)

1. pisana provjera	SVEMIR, UNUTARNJI PROCESI PREOBLIKOVANJA RELJEFA, GEOGRAFSKE KARTE I ORIJENTACIJA, GLOBALIZACIJA	GRUPA A
--------------------	--	---------

IME I PREZIME:		BROJ BODOVA:	/50
RAZRED:		POSTOTAK:	
DATUM:		OCJENA:	

**1. Objasni sljedeće pojmove:**

	3
--	---

a. SVEMIR

---

b. ZVIJEZDE

---



---

c. POMRČINA SUNCA

---



---

**2. U nekoliko rečenica objasni što je Zemljina rotacija i koje su posljedice Zemljine rotacije.**

	2
--	---

---



---



---



---

**3. Nadopuni sljedeće rečenice.**

	4
--	---

a. Mjesečeve mijene nastaju zbog različitog gibanja Zemlje i Mjeseca. Postoje 4 osnovne mijene: \_\_\_\_\_, prva četvrt, \_\_\_\_\_ i druga četvrt.

b. Zemlja se okreće oko Sunca po putanji koju nazivamo \_\_\_\_\_.

c. Hrvatska se nalazi u vremenskom pojasu koji nazivamo \_\_\_\_\_ vrijeme.

d. Vrijeme koje se određuje prema položaju Sunca iznad meridijana naziva se \_\_\_\_\_ vrijeme.

4. U sljedećim rečenicama dva su ponuđena pojma podebljana. Prekriži netočan pojam.

	4
--	---

- a. Prijelazno područje između kore i plašta naziva se **Mohorovičićev / Wegenerov** diskontinuitet.
- b. Posljedica razmicanja litosfernih ploča jest nastajanje **dubokomorskog jarka / srednjeoceanskog hrpta**.
- c. Područje najveće koncentracije vulkana i potresa na svijetu nazivamo **Pacifički / Atlantski** vatreni prsten.
- d. Tijekom kretanja litosfernih ploča dolazi do bočnih pritisaka te se stijene počinju savijati i pucati. Tako nastaju **bore / rasjedi**.

5. Nabroji vrste stijena prema postanku. Opiši jednu od njih.

	4
--	---

---

---

---

6. Poveži lijevi i desni stupac tako da na prazne crte upišeš odgovarajuće slovo.

	4
--	---

- (A) Zimski suncostaj ili solsticij \_\_\_\_\_ 21. lipanj
- (B) Ljetni suncostaj ili solsticij \_\_\_\_\_ početak proljeća na južnoj polutki
- (C) Jesenska ravnodnevica ili ekvinocij \_\_\_\_\_ početak ljeta na južnoj polutki
- (D) Proljetna ravnodnevica ili ekvinocij \_\_\_\_\_ 21. ožujak

7. Poveži karte s pripadajućim mjerilima tako da na prazne crte upišeš odgovarajući broj.

	5
--	---

- PLAN (1) \_\_\_\_\_ 1 : 50 000
- \_\_\_\_\_ 1 : 5 000
- \_\_\_\_\_ 1 : 25 000
- TOPOGRAFSKA KARTA (2) \_\_\_\_\_ 1 : 100
- \_\_\_\_\_ 1 : 250 000

8. Poveži elemente topografske karte tako da na prazne crte upišeš odgovarajući broj.

	6
--	---

- GEOGRAFSKI ELEMENTI (1) \_\_\_\_\_ ekvidistanca
- \_\_\_\_\_ naselja
- \_\_\_\_\_ koordinatna mreža
- \_\_\_\_\_ voda
- MATEMATIČKI ELEMENTI (1) \_\_\_\_\_ reljef
- \_\_\_\_\_ mjerilo

9. Objasni što je multinacionalna kompanija.

	2
--	---

---

---

---

---

---

---

10. Na karti mjerila 1 : 25 000 udaljenost između dva grada iznosi 3 cm. Kolika je udaljenost između ta dva grada u prirodi? Odgovor napiši u metrima i kilometrima.

	2
--	---

PROSTOR ZA RAČUNANJE
----------------------

11. Objasni što je orijentacija. Objasni jedan način orijentacije u prirodi.

	2
--	---

---

---

---



---

---

---

12. U kvadratiće ucrtaj odgovarajući topografski znak.

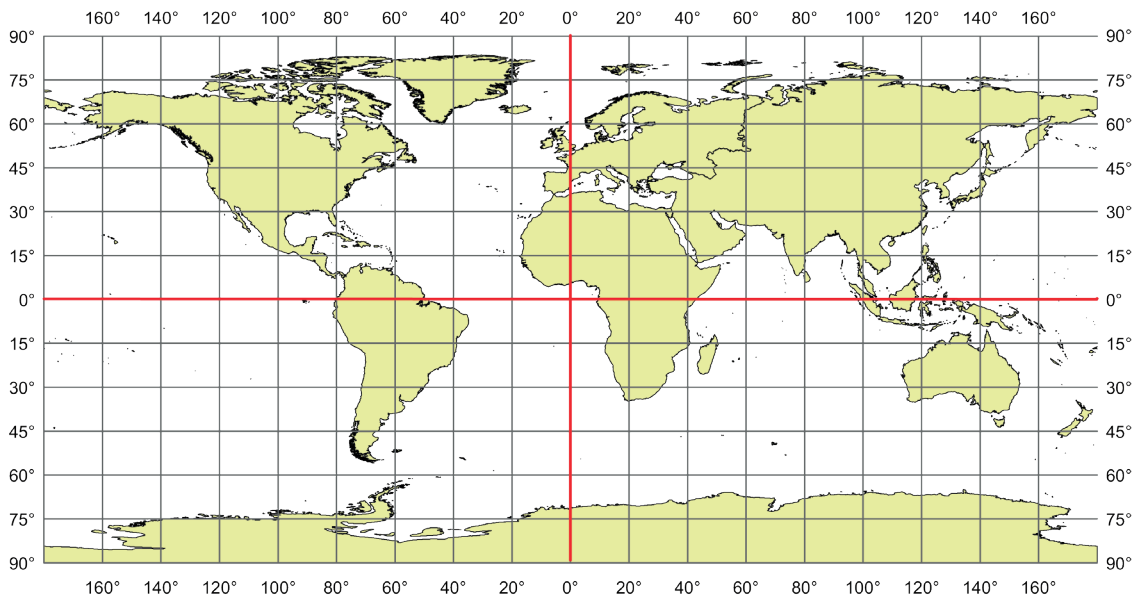
	2
--	---

	
ŠPILJA	DVORAC

13. Navedena slova ispred geografskih koordinata upiši na odgovarajuće mjesto na priloženoj karti.

	5
--	---

- A – 30° južne geografske širine i 50° zapadne geografske dužine
- B – 60° sjeverne geografske širine i 40° istočne geografske dužine
- C – 50° južne geografske širine i 30° zapadne geografske dužine
- D – 20° sjeverne geografske širine i 120° istočne geografske dužine
- E – 15° južne geografske širine i 100° zapadne geografske dužine



14. Poveži skraćenice svjetskih organizacija i njihov puni naziv.

	3
--	---

- WHO                                      Sjevernoatlantski savez
- FAO                                        Svjetska zdravstvena organizacija
- NATO                                      Organizacija za hranu i poljoprivredu

15. Objasni važnost konvencije o pravima djeteta te navedi 4 temeljna prava djeteta.

	2
--	---

---

---

---

---

---

---