

IVAN MRKONJIĆ \* ĐURĐICA SALAMON PADJEN

# MOJA MATEMATIKA



LISTIĆI ZA DODATNU NASTAVU  
ZA UČENIKE PRVOG RAZREDA OSNOVNE ŠKOLE



# PRAVILNO NIZANJE

Ime i prezime: \_\_\_\_\_ Razred: \_\_\_\_\_

**KVAČICOM OZNAČI LIK KOJI NASTAVLJA NIZ.**

\_\_\_\_\_

**UKRASI ŠAL**  
NASTAVI NIZATI UKRASE NA ŠAL ŽIRAFE STANE.

Oboji lik koji pokazuje kako si riješila/riješio zadatke



Komentar učiteljice/učitelja

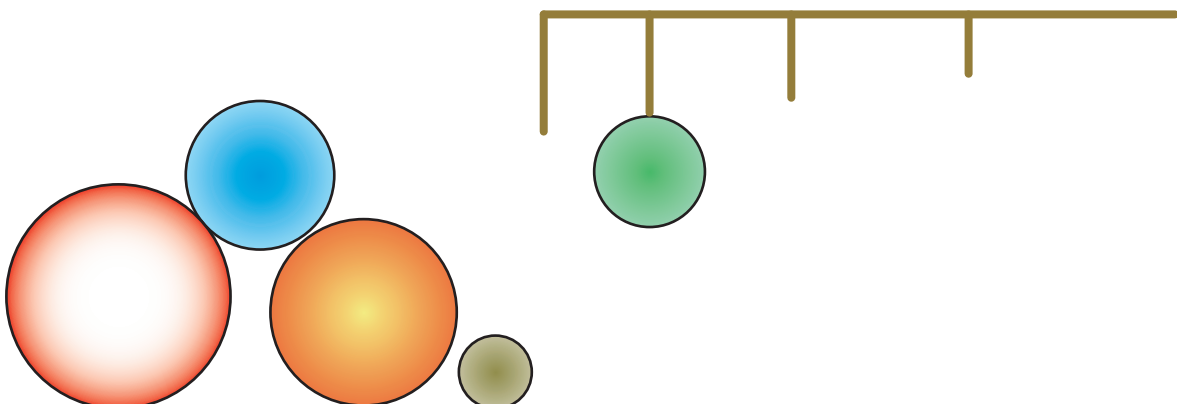


# VEĆE – MANJE

Ime i prezime: \_\_\_\_\_ Razred: \_\_\_\_\_


## OBJESI KUGLICE

OZNAČI STRELICAMA KOJU KUGLICU GDJE TREBA OBJESITI TAKO DA KUGLICE ČINE RASTUĆI NIZ.



## NAJVEĆE

NACRTAJ SRCE VEĆE OD NAJVEĆEG.



Oboji lik koji pokazuje kako si riješila/riješio zadatke



Komentar učiteljice/učitelja


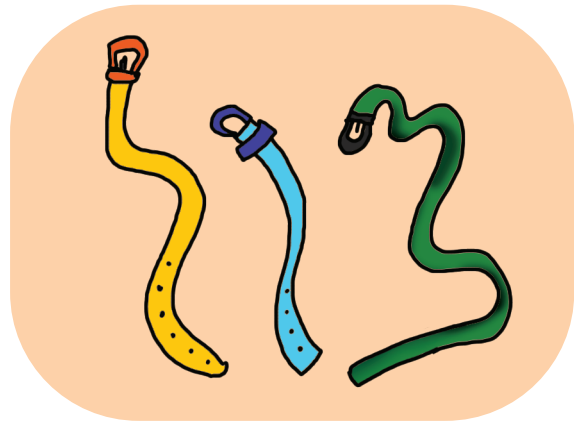



# DULJE – KRAĆE

Ime i prezime: \_\_\_\_\_ Razred: \_\_\_\_\_

## DULJE – KRAĆE

OZNAČI  ONO ŠTO JE NAJDULJE, A  ONO ŠTO JE NAJKRAĆE.



Oboji lik koji pokazuje kako si riješila/riješio zadatke



Komentar učiteljice/učitelja






# VIŠE – NIŽE

Ime i prezime: \_\_\_\_\_ Razred: \_\_\_\_\_


## DUHOVI

ŠESTORICA PRIJATELJA  
MASKIRALA SU SE U  
DUHOVE. OTKRIJ TKO  
SE KRIJE ISPOD KOJE  
PLAHTE.

POVEŽEŠ LI BROJ SA  
SLOVOM, ZAPISAT ĆEŠ  
DA SE RADI O  
USPOREDBI NA  
TEMELJU...



1	2	3	4	5	6



Oboji lik koji pokazuje kako  
si riješila/riješio zadatke



Komentar učiteljice/učitelja



# PONAVLJANJE

Ime i prezime: \_\_\_\_\_ Razred: \_\_\_\_\_

## SAŠINI KRUGOVI

SAŠA JE CRTAO I BOJIO KRUGOVE.

ZELENI KRUG JE BIO VEĆI OD CRVENOG, ALI MANJI OD ŽUTOG.

PLAVI JE KRUG MANJI OD CRVENOG.

NACRTAJ I TI TAKVE KRUGOVE.

## KUĆA, STABLO, SVJETILJKA

NACRTAJ STABLO, KUĆU I ULIČNU SVJETILJKU.

NEKA STABLO BUDE VIŠE OD SVJETILJKE, A NIŽE OD KUĆE.

Oboji lik koji pokazuje kako  
si riješila/riješio zadatke



Komentar učiteljice/učitelja



# KUGLA

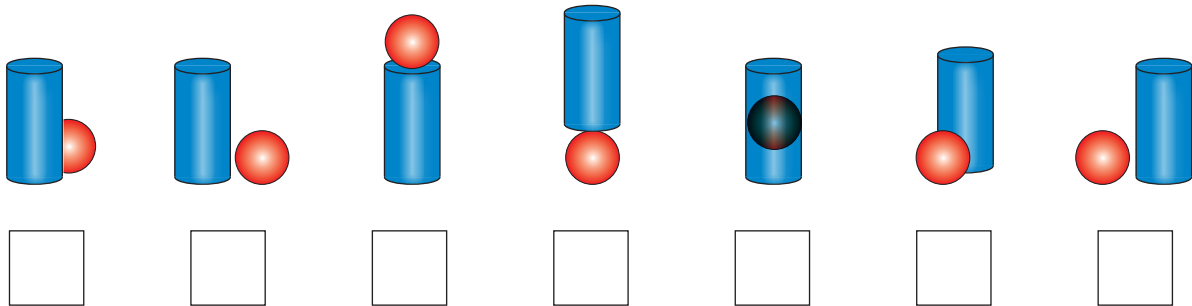
Ime i prezime: \_\_\_\_\_ Razred: \_\_\_\_\_

## GDJE SE NALAZI KUGLA U ODNOSU NA ?

POVEŽI SLIKU S OPISOM TAKO DA U KVADRAT UPIŠEŠ ODGOVARAJUĆE SLOVO.

Č - U, D - DESNO, I - DOLJE, L - GORE, N - ISPRED, O - IZA, O - LIJEVO

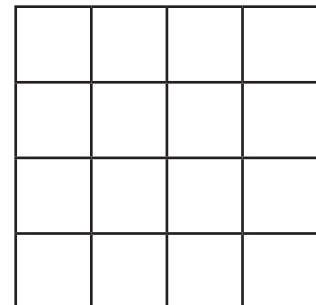
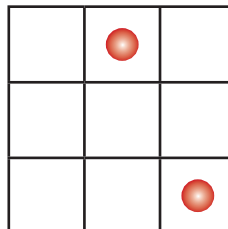
KAKO SI RIJEŠILA/RIJEŠIO ZADATAK?  
PROČITAJ ODGOVOR.



## PO JEDNA KUGLA

U MREŽI LIJEVO NACRTAJ KUGLU TAKO DA  
U SVAKOM RETKU I SVAKOM STUPCU BUDE  
PO JEDNA KUGLA.

PRIMIJENI TO PRAVILO NA MREŽU DESNO.



Oboji lik koji pokazuje kako  
si riješila/riješio zadatke



Komentar učiteljice/učitelja

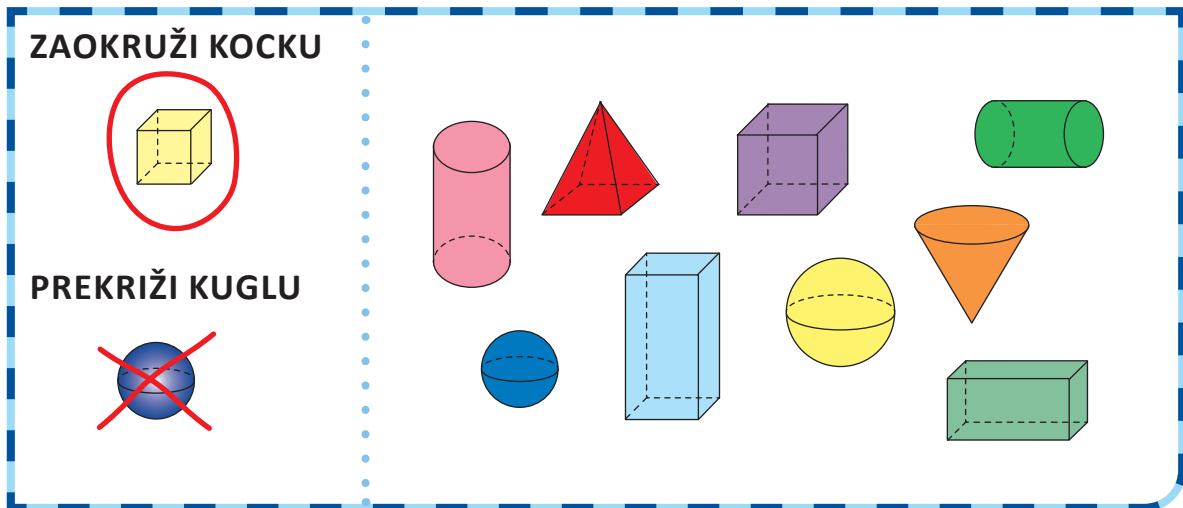


# KOCKA

Ime i prezime: \_\_\_\_\_ Razred: \_\_\_\_\_

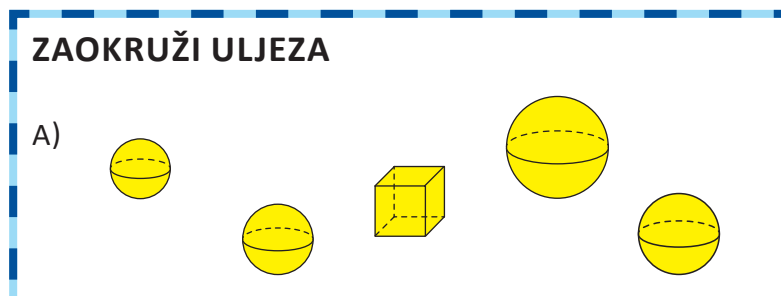
**ZAOKRUŽI KOCKU**

**PREKRIŽI KUGLU**

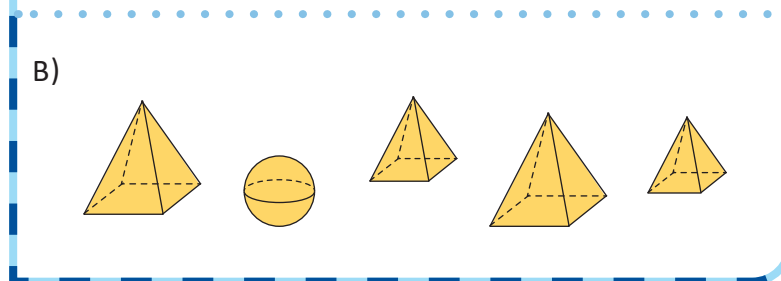


**ZAOKRUŽI ULJEZA**

A)



B)



Oboji lik koji pokazuje kako si riješila/riješio zadatke



Komentar učiteljice/učitelja

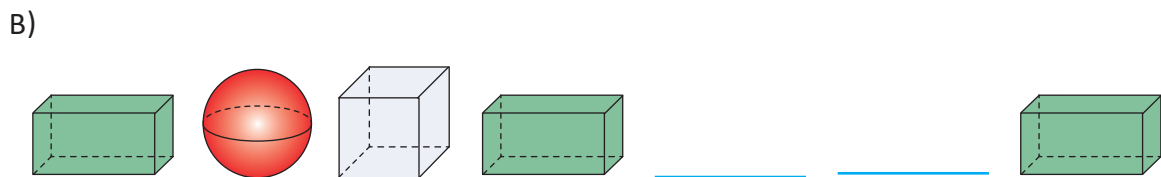
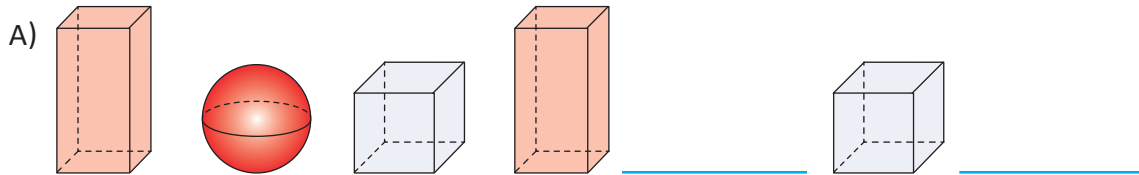




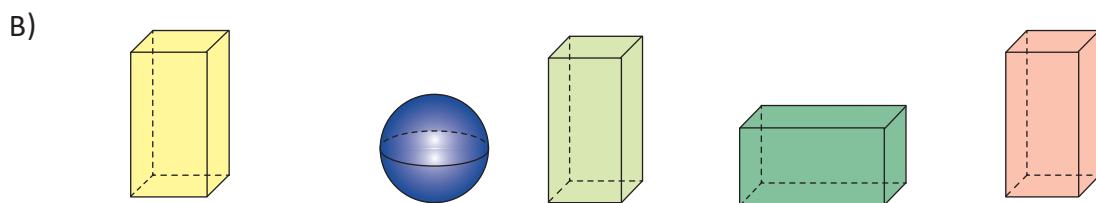
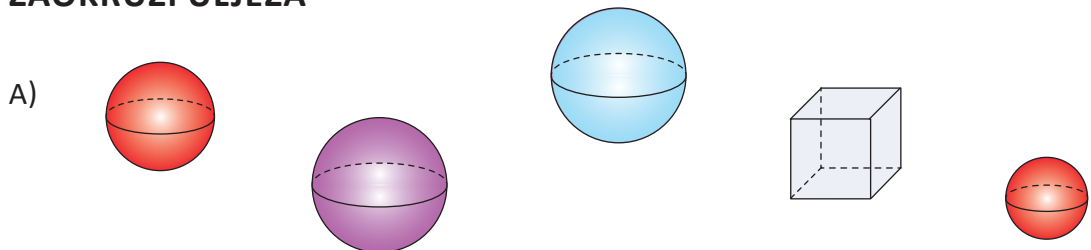
# KVADAR

Ime i prezime: \_\_\_\_\_ Razred: \_\_\_\_\_

## NACRTAJ TIJELA KOJA NEDOSTAJU



## ZAOKRUŽI ULJEZA



Oboji lik koji pokazuje kako si riješila/riješio zadatke



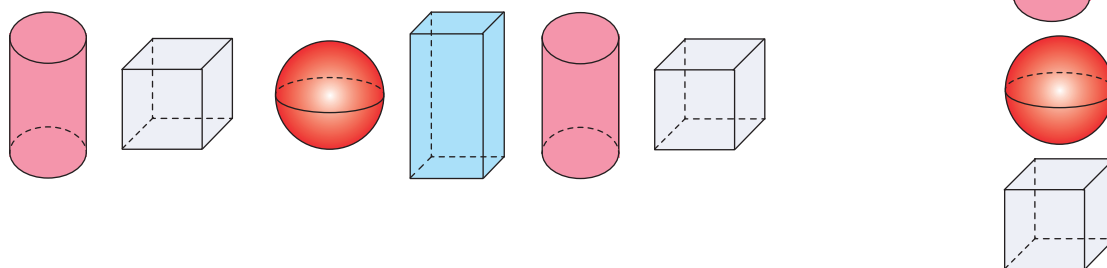
Komentar učiteljice/učitelja



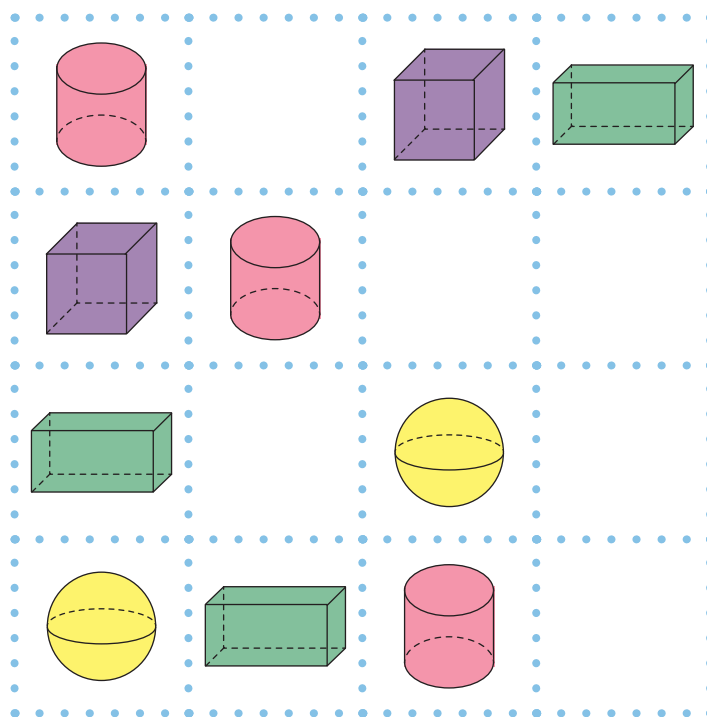
# VALJAK

Ime i prezime: \_\_\_\_\_ Razred: \_\_\_\_\_

SPOJI ONO ŠTO SLIJEDI



NACRTAJ TIJELA TAKO DA SE U RETKU ILI STUPCU TIJELA NE PONAHLJAJU



Oboji lik koji pokazuje kako si riješila/riješio zadatke



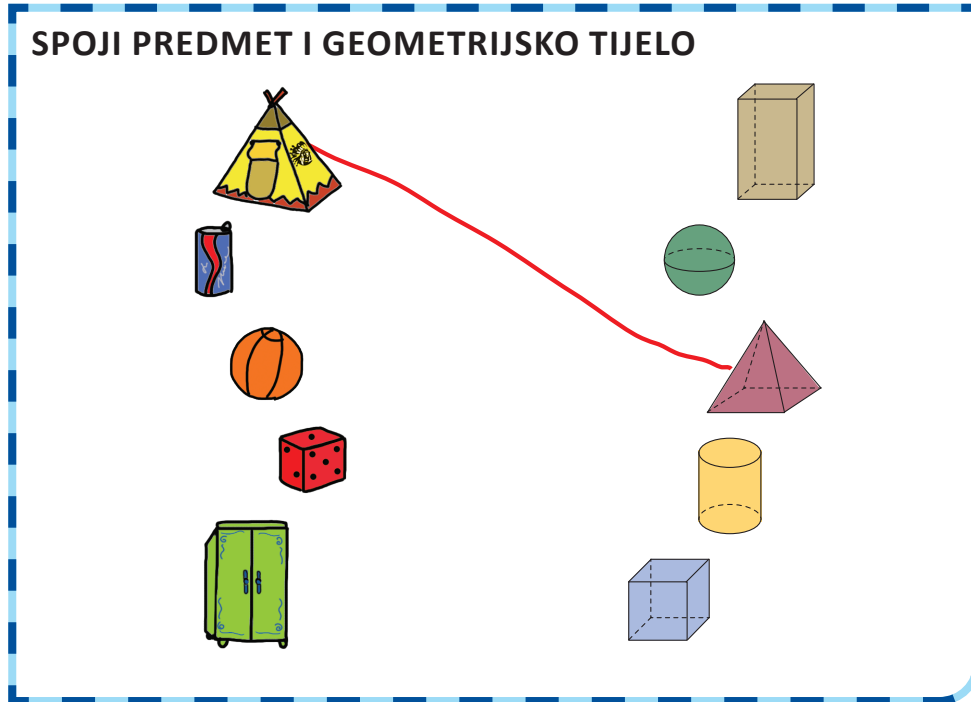
Komentar učiteljice/učitelja



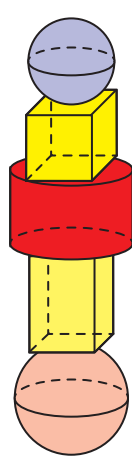
# PIRAMIDA

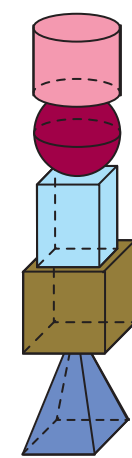
Ime i prezime: \_\_\_\_\_ Razred: \_\_\_\_\_

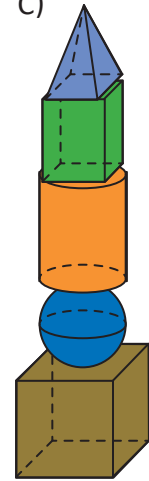
**SPOJI PREDMET I GEOMETRIJSKO TIJELO**



**IZBACI ULJEZA**  
PREKRIŽI SLOVO  
UZ NIZ KOJI SE  
RAZLIKUJE OD  
OSTALA DVA  
NIZA.

A) 

B) 

C) 

Oboji lik koji pokazuje kako si riješila/riješio zadatke



Komentar učiteljice/učitelja

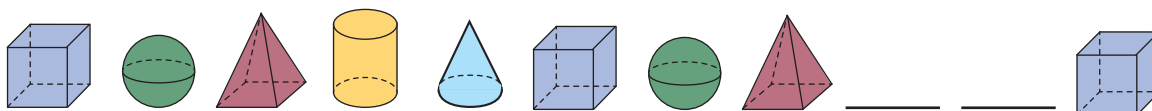


# STOŽAC

Ime i prezime: \_\_\_\_\_ Razred: \_\_\_\_\_

## NACRTAJ TIJELA KOJA NEDOSTAJU

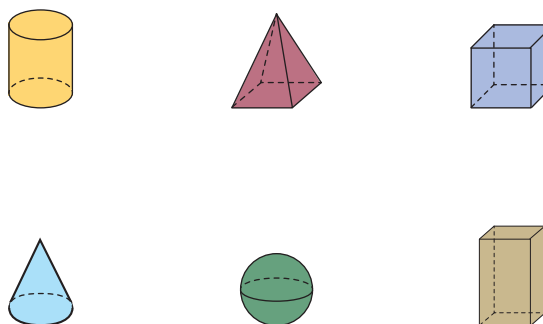
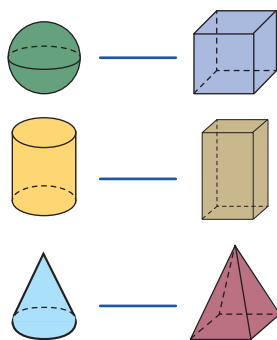
A)



B)



## SPOJI PREMA PREDLOŠKU



Oboji lik koji pokazuje kako si riješila/riješio zadatke



Komentar učiteljice/učitelja





# PONAVLJANJE

Ime i prezime: \_\_\_\_\_ Razred: \_\_\_\_\_

**IZ SVAKODNEVNOG ŽIVOTA**  
PRIDRUŽI PREDMETIMA NA SLICI ODGOVARAJUĆI GEOMETRIJSKI OBLIK.

**POSPREMI MARINOVE IGRAČKE**  
NAJPRIJE POSPREMI SVE KOCKE.

<p>Oboji lik koji pokazuje kako si riješila/riješio zadatke</p>	<p>Komentar učiteljice/učitelja</p>
---	-------------------------------------





# BROJEVI DO PET

Ime i prezime: \_\_\_\_\_ Razred: \_\_\_\_\_

## VOĆE

DOPUNI TAKO DA ONO ČEGA IMA JEDAN KOMAD OZNAČIŠ BROJEM.



				
XXX				

Oboji lik koji pokazuje kako si riješila/riješio zadatke



Komentar učiteljice/učitelja



# BROJ JEDAN

Ime i prezime: \_\_\_\_\_ Razred: \_\_\_\_\_

## JEDAN CRTEŽ

NACRTAJ 1 KUĆICU, 1 PUT DO NJE, 1 STABLO POKRAJ NJE I OBLAKE IZNAD NJE.

Oboji lik koji pokazuje kako si riješila/riješio zadatke




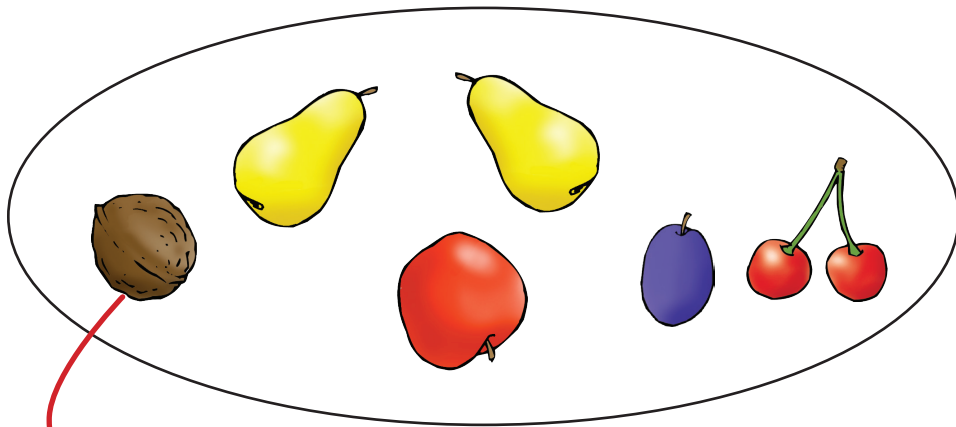
Komentar učiteljice/učitelja



# BROJ DVA

Ime i prezime: \_\_\_\_\_ Razred: \_\_\_\_\_

DOPIŠI I DOCRTAJ TAKO DA BUDE TOČNO



Oboji lik koji pokazuje kako si riješila/riješio zadatke



Komentar učiteljice/učitelja





# BROJ TRI

Ime i prezime: \_\_\_\_\_ Razred: \_\_\_\_\_

## KVADRAT 3 x 3

U KVADRATIĆE UPIŠI BROJEVE 1, 2 ILI 3 TAKO DA U SVAKOM RETKU I STUPCU BUDU UPISANA SVA TRI BROJA.

A)

1		
	2	

B)

		3
	1	

C)

1		
	2	

D)

	3	
		1

Oboji lik koji pokazuje kako si riješila/riješio zadatke



Komentar učiteljice/učitelja



# BROJ ČETIRI

Ime i prezime: \_\_\_\_\_ Razred: \_\_\_\_\_

## KVADRAT 4 x 4

U KVADRATIĆE UPIŠI BROJEVE 1, 2, 3 ILI 4 TAKO DA U SVAKOM RETKU I STUPCU BUDU UPISANA SVA ČETIRI BROJA.

A)

2			
	4		
		3	4
		1	

B)

1			3
	2		
		3	
			4

C)

			4
		2	
2	3		
	1		

D)

			3
		1	
1	4		
	2		

Oboji lik koji pokazuje kako si riješila/riješio zadatke



Komentar učiteljice/učitelja